



MUNICÍPIO DA ESTÂNCIA BALNEÁRIA DE PRAIA GRANDE

Estado de São Paulo
SEDUC - Secretaria de Educação

SEMANAS 9 E 10 (2º SEMESTRE 2021)

SALA DE AULA



Disciplina: Matemática

1ª e 2ª séries da EJA

1. SUBSTITUA A INTERROGAÇÃO (?) E ESCREVA O NUMERAL QUE FALTA PARA COMPLETAR A SUBTRAÇÃO.

A) $10 - ? = 7$

D) $5 - ? = 0$

B) $9 - ? = 5$

E) $10 - ? = 1$

C) $4 - ? = 4$

F) $6 - ? = 4$





2. CONTINUE A SEQUÊNCIA NUMÉRICA CONTANDO DE 3 EM 3.

3			12	15
	21			30

3. SÉRGIO QUER COMPRAR CAMISAS. ELE TEM AS CÉDULAS ABAIXO.



OBSERVE OS PREÇOS DAS CAMISAS E RESPONDA EM SEU CADERNO.

 ROSA	 VERDE	 AZUL	 AMARELA
26 REAIS	35 REAIS	38 REAIS	23 REAIS

A) QUANTOS REAIS SÉRGIO TEM PARA GASTAR?

B) QUANTOS REAIS SÉRGIO TERIA QUE TER PARA COMPRAR AS CAMISAS ROSA E AMARELA?

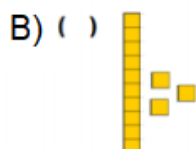
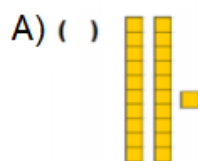
C) QUANTO SOBRARÁ DE TROCO, SE SÉRGIO COMPRAR A CAMISA MAIS BARATA?

D) QUAL É A DIFERENÇA ENTRE A CAMISA MAIS BARATA E A MAIS CARA?

4. OBSERVE A REPRESENTAÇÃO DO MATERIAL DOURADO.



COLOQUE NO PARÊNTESES OS NÚMEROS DO QUADRO DE ACORDO COM O MATERIAL DOURADO.



13

5

21